



Stefano e Federico tornano a casa da scuola e decidono di giocare con le macchinine.

Stefano ne prende $\frac{4}{12}$

mentre Federico $\frac{3}{12}$



www.disegnidacoloraregratis.it

Quante macchinine ha Stefano? _____ Quante macchinine ha Federico? _____

Chi ha più macchinine? _____

Lucia e Davide aiutano il papà a fare l'albero di Natale. Papà appende i due tredicesimi, Lucia i cinque tredicesimi e Davide i sei tredicesimi.


Quante palline ha appeso il papà? _____

Quante Lucia? _____

Quante Davide? _____

Chi ha appeso più palline? _____

Chi ne ha appese di meno? _____



MAMMAEBAMBINI.WORDPRESS.COM

Per compito, Stefano e Federico devono colorare queste strisce di carta: aiutali tu, colorandole secondo la frazione indicata accanto.

FEDERICO $\frac{3}{7}$

--	--	--	--	--	--	--	--

STEFANO $\frac{3}{5}$

--	--	--	--	--

Chi dei due bambini ha colorato di più? _____

Qual è la frazione maggiore? _____