

Nome Cognome classe data

PROVA DI INGRESSO MATEMATICA

1) Scomponi i seguenti numeri

8 621

52 632

648

105 896

654 098

2) Inserisci i simboli < o >

548	584
-----	-------	-----


24760	24706
-------	-------	-------

1009	1090
------	-------	------


21001	21010
-------	-------	-------

675	757
-----	-------	-----


3) Scrivi la frazione corrispondente alla parte colorata

..... 

..... 

..... 

..... 

..... 

4) Esegui i seguenti calcoli orali

$1225 + 25 = \dots\dots\dots$

$731 + 29 = \dots\dots\dots$

$824 + \dots\dots\dots = 840$

$3640 - 15 = \dots\dots\dots$

$6000 - 100 = \dots\dots\dots$

$10000 - \dots\dots\dots = 9800$

$35 \times 10 = \dots\dots\dots$

$4 \times 80 = \dots\dots\dots$

$12 \times \dots\dots\dots = 1200$

$120 : 10 = \dots\dots\dots$

$48 : 2 = \dots\dots\dots$

$8300 : \dots\dots\dots = 830$

5) Esegui in colonna

$8744 + 14729 = \dots\dots\dots$

$8655 : 5 = \dots\dots\dots$

$408 + 48,692 + 2573 = \dots\dots\dots$

$12639 : 4 = \dots\dots\dots$


$65900 - 8752 = \dots\dots\dots$

$237 \times 23 = \dots\dots\dots$

$459,86 - 23,748 = \dots\dots\dots$


$60,47 \times 14,3 = \dots\dots\dots$

6) Indica la risposta corretta



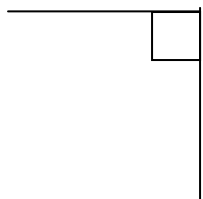
Le rette rappresentate sono:

- incidenti perpendicolari parallele



La parte di retta compresa tra i punti A e B è detto:

- semiretta segmento retta




L'angolo raffigurato è :

- retto ottuso acuto

Misura :

- 90° 120° 45°



La somma dei due angoli misura:

- 90° 180° 360°

7) Indica la marca più appropriata ad esprimere:

- a) La lunghezza di un terrazzo Km m cm
b) La distanza tra due città Km m cm
c) L'altezza di una montagna Km m cm
d) Il peso di un diario Kg g cg
e) La capacità di una lattina di fanta hl l cl